

Levelezős Történelem Verseny

1. forduló

Kedves Versenyző!

A feladatok **figyelmes** értelmezése, megoldása jobb teljesítményt eredményez.
Ezeket tartsátok szem előtt és dolgozzatok alaposan!

Jó munkát kívánunk!

A szervezők

Név:

Cím:

Iskola, évfolyam:

E-mail cím:

Történelem tanár neve:

„Cum Deo pro patria et libertate”

1. Válaszolj a kérdésekre!

A híres latin jelmondat magyar jelentése:

Mi látható a képen?

.....

Mi díszíti az egyik-egyik (a két) oldalát?

.....

.....

.....

.....



Hogyan nevezték II. Rákóczi Ferenc 1704-ben kibocsátott váltópénzét?

.....

Mi a jelentése?

Milyen anyagból készült?



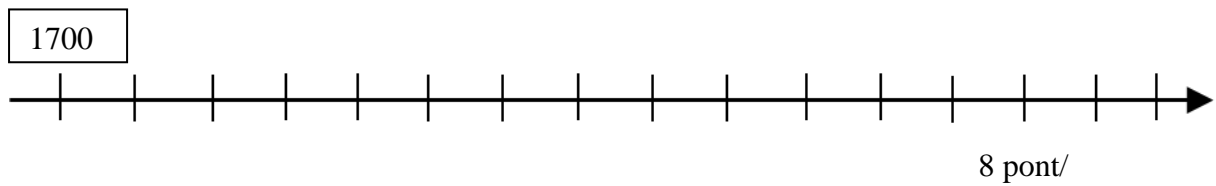
Melyik francia és orosz uralkodó volt a fejedelem kortársa?

.....

9 pont/

2. Jelöld az időszalagon évszámokkal a következő eseményeket (alatta és fölötte is lehet)!

- A. Szatmári béke
- B. Francia köztársaság kikiáltása
- C. Martinovics Ignác kivégzése
- D. Mária Terézia Magyarország királynője lesz
- E. Bostoni teadélután
- F. Napóleon császárrá koronáztatja magát
- G. A győri csata
- H. Az észak-amerikai Függetlenségi nyilatkozat elfogadása



3. Magyarázd meg az ábra alapján, hogyan fokozódtak a jobbágyok terhei a 18. században! Nevez meg közülük minél többet!



.....

.....

.....

.....

.....

.....

.....

.....

.....

.....

.....

5 pont/

4. Írd az alábbi állítások egy-egy betűjelét a megfelelő uralkodóhoz tartozó -be!

A) állami keretek között lehetővé tette az alsófokú oktatást

B) jobbágyság felszabadítására tett kísérletek

C) népszámlálást rendelt el, mert szeretne volna megadóztatni a nemességei is

D) „Életünket és vérünket!”

E) halálbüntetés eltörlése a katonaszökevényeknél

F) a latin helyett a németet tette hivatalos nyelvvé

G) részvétel az amerikai függetlenségi háborúban


H) kivégzése guillotine által

I) elrendelte az orvos- és bábaképzés fejlesztését

J) intézkedéseinek többségét a halálos ágyán visszavonta

K) türelmi rendeletével biztosította a vallások szabad gyakorlását

L) gazdaságilag jobb helyzetbe próbálta hozni a jobbágyokat azzal, hogy terheiket egységesítette



12 pont/

5. Állítsd számozással időrendi sorrendbe oszloponként 1-5-ig az eseményeket! A számozást mindegyik oszlopban a legkorábbi eseménnyel kezd!

a)

- Waterloo-i csata
- Szécsényi országgyűlés
- Schönbrunni béke
- II. József társuralkodó lesz
- A Bastille bevétel

b)

- Kiadják az I. Ratio Educationist
- Napóleon császár lesz
- Martinovics Ignác halála
- Trencsényi csata
- II. József jobbágyrendelete

c)

- A „népek csatája”
- Úrbéri rendelet kiadása
- Szécsényi Ferenc megalapítja az Országos Széchényi Könyvtárat
- Romhányi csata
- Rákóczi a bécsújhelyi börtönbe kerül

15 pont/

6. Fejtsd ki mit ábrázol a francia karikatúra! Mikor készülhetett?



.....

.....

.....

.....

.....

.....

.....

.....

.....

.....

5 pont/

7. Rendszerezd! Jelöld nyilakkal, hogy a középső sorokban felsoroltak a társadalom mely csoportjához tartoznak!

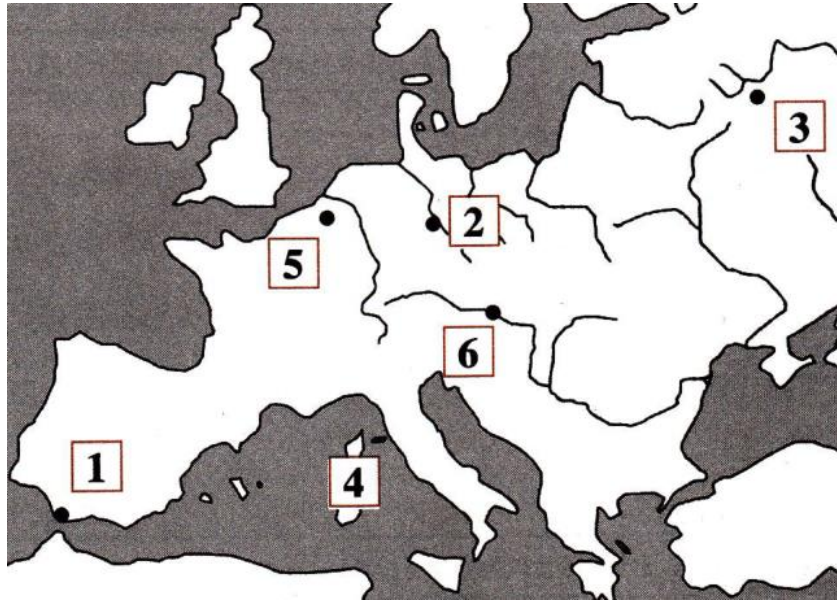
Beleszólhatnak az ország vezetésébe. A hatalom hasznélvezői.

- Az önkényuralkodó király
- A lakosság többségét alkotók
- A nagyszámú kisiparos, kiskereskedő
- A nemesek
- A városi munkásság
- A gazdag papság
- A „taláros nemesség
- Bankárok, gyárosok

A hatalomból kirekesztettek. Csak adóznak, de az ügyekbe nem, vagy csak alig szólhatnak bele.

8 pont/

8. Írd a térképvázlatba az európai nagyhatalmak nevét: Francia Császárság, Nagy-Britannia, Orosz Birodalom, Osztrák Császárság, Rajnai Szövetség!



Írd a megfelelő számot a térképvázlatban jelölt történelmi hely **elé!**

- | | |
|---------------------|-------|
| Trafalgar | |
| Lipcse | |
| Borogyino | |
| Elba (sziget) | |
| Waterloo | |
| Bécs | |

Rendezd a betűjeleket a városok neve **utáni** pontozott vonalra!

- | | | |
|---|-------------------------------|---------------------|
| a) nagy vereség a mai Belgium területén | b) népek csatája | c) Európa rendezése |
| d) száműzetés | e) Napóleon ellenfele Kutuzov | f) tengeri ütközet |

17 pont/

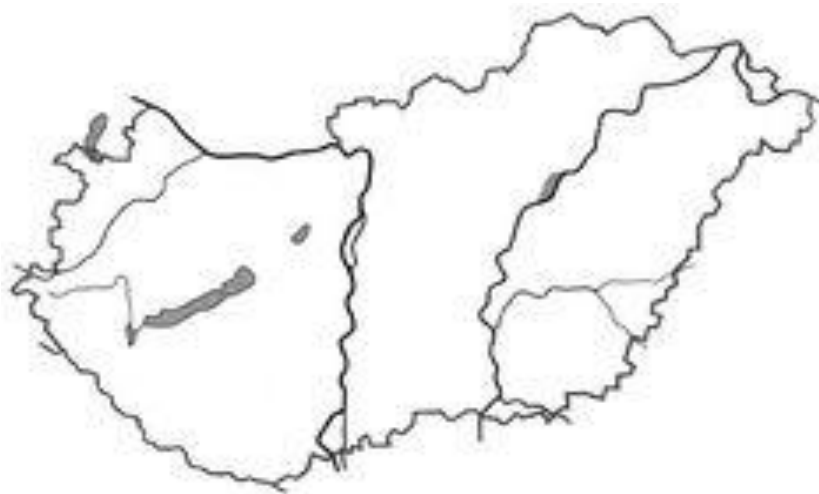
9. Egészítsd ki az alábbi szöveget a megadott szavakkal!

kapitalizmus	piac	Morse	Angliából	nyomásos gazdálkodást	vetésforgó	gőz
Fulton	James Watt	XVIII.	távíró	hajóba	Rocket	Stephenson

Az első ipari forradalom indult a század második felében. A fő hajtóerő a volt. A gőzgépet találta fel 1769-ben. a gőzgépet építette be. gőzmozdonya a 25 km/h sebességgel vontatta a kocsikat. A szabad versenyes időszakában az áruk versengését az állam nem korlátozta, a termelést a törvénye szabályozta. A mezőgazdaságban a a váltotta fel. találmánya, a a kommunikációt könnyítette meg.

14 pont/

10. Jelöld nyíllal a vaktérképen, mely településeken található a képeken látható kastélyok. Nevezd is meg a helységeket a térképen! Írd a képek alá az építető nevét!



.....
Milyen építészeti stílust képviselnek?

7 pont/

Beérkezési határidő: 2023. november 17.
Cím: „Salla” Művelődési Központ és Könyvtár
8999 Zalalövő, Szabadság tér 2.
E-mail cím: zalakonyvtar@gmail.com
Tel.: 0630/870-0893