

# Megyei Történelem Verseny

## 3. forduló

### Az újkor kezdetén

Kedves Versenyző!

A feladatok **figyelmes** értelmezése, megoldása jobb teljesítményt eredményez.  
Ezeket tartsátok szem előtt és dolgozzatok alaposan! Jó munkát kívánunk, szervezők.

Név: .....

Cím: .....

Iskola, évfolyam: .....

E-mail cím: .....

### „És mégis mozog a Föld”

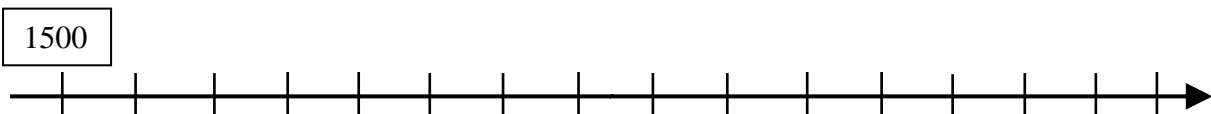
1. Kitől származik a fenti idézet?

.....

1 pont/

2. Jelöld az időszalagon a következő eseményeket évszámokkal!

újkor kezdete   Luther fellépése   angol forradalom kezdete   XIV. Lajos uralkodása



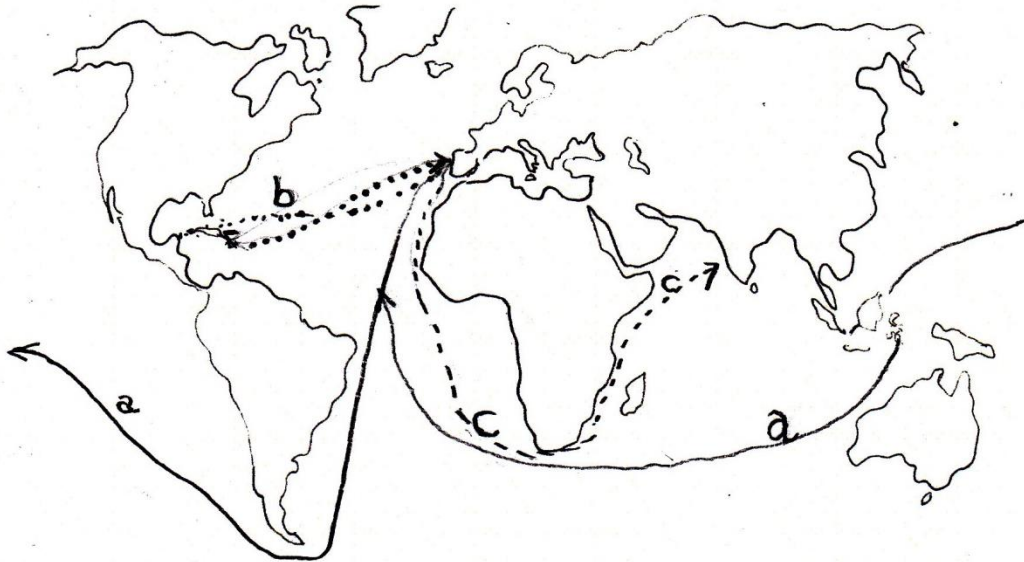
4 pont/

3. Melyik esemény történt előbb? Húzd alá!

a reformáció kezdete	vagy	az angol forradalom kezdete
a harmincéves háború	vagy	a németalföldi szabadságharc
a spanyol armada veresége	vagy	a spanyol örökösödési háború

3 pont/

#### 4. Old meg a térképhez fűződő feladatokat!



- Írd a térképvázlatba a kontinensek nevét!
- Színezd ki a térképvázlaton Indiát **zölddel**, Kínát **pirossal**, a közép- és dél-amerikai indián kultúrákat pedig –maják: **mustársárga**, azték: **narancessárga**, inka: **citromsárga** - színnel!
- A térképen három felfedezőutat látsz {a), b), c)}. Írd a betűjelüket a felsorolt felfedezésekhez! Egészítsd ki a mondatokat!

.....1942-ben .....felfedezte Amerikát.

.....A portugál felfedezők Afrika megkerülésével jutottak el .....ba.

.....Bár ..... útközben meghalt, egyik hajója mindig nyugat felé haladva visszaért Spanyolországba, így elsőként került meg a Földet.

- Jelöld a térképen a következő helyeket!
  - Magellán-szoros
  - Jóreménység foka

18 pont/

**5. Számokkal rendszerezd a XV. század Európán kívül élő népeire jellemző állításokat!**

maják	aztékok	inkák	afrikaiak	kínaiak	indiaiak

1. Hosszú, kövezett útjaikon postaállomásokat építettek. 2. Kincseikkel, pl. az elefántcsont az arabok kereskedtek. 3. Hivatalnokait mandarinoknak nevezték. 4. Gyermekük nevelése „katonás” volt. 5. Kincsei: fűszerek, bors, fahéj, tea. 6. Nevezetes városuk Machu Picchu. 7. A Mexikói- öbölbe nyúló félszigeten éltek, városlakók voltak. 8. Legfőbb táplálékuk a rizs. Legkeresettebb árucikkek a selyem és a porcelán. 9. Marco Polo saját szemével látta, hogyan éltek. 10. Háziállatuk a láma.

10 pont/

**6. Folytasd az érvelést!**

A manufaktúrák hatékonyabban működtek, mint a céhek, mert

- .....
- .....
- .....
- .....

Milyen árucikkek voltak a legkeresettebbek a világpiacon (5-6 db)?

.....  
.....


5 pont/

**7. Igaz vagy hamis? Döntsd el a következő állításokról, hogy igazak-e a világgazdaság kialakulásának időszakára. Írd eléjük a megfelelő betűjelet (I vagy H)!**

- ..... Nyugat-Európa minden lakosa meggazdagodott.
- ..... Megnőtt a pénzt hitelező bankárok szerepe.
- ..... Rohamosan növekedtek az árak.
- ..... Nyugat-Európában megnőtt a koldusok száma.
- ..... A népességnövekedés miatt drágábbá vált a munkaerő.

5 pont/

## 8. Rejtélyes rejtvény, fejtsd meg!



1. Vitorlás hajó
2. Így nevezték XIV. Lajos francia királyt
3. Sokan azt hitték, bűnbocsánatot nyernek általa
4. Orosz nagybirtokos
5. Vallásbékét kötöttek itt
6. Hatalmas templom
7. Körül hajózta a Földet
8. Művészeti stílus, melyre a díszítőelemek gazdagsága jellemző
9. Nagy Péter által épített város
10. A Kegyes Tanító Rend neve másképpen
11. Ezt az egyházat VIII. Henrik hozta létre
12. Híres németalföldi kikötőváros.
13. Megtámadta a Legyőzhetetlen Armadát
14. Ezzel a jelzővel illették IV. Iván cárt
15. Németalföld területén önállóvá váló állam
16. Angol királynőként uralkodott 1603-ig.
17. Ezen a kontinensen élnek az indiánok.

**Megfejtés:**

18 pont/

**9. Milyen jelek mutatták a katolikus egyház válságát a XVI. század elején?**

.....  
.....  
.....  
.....

3 pont/

**10. Válaszolj a reformációval kapcsolatos kérdésekre!**

Mit jelent a reformáció? .....

Mely országból indult el? .....

Ki volt az elindítója? .....

Milyen tetteivel indította el? .....

Mi volt a reformáció célja? .....

5 pont

**11. Számozással alakítsd ki a helyes időrendet Anglia XVII. századi történetében!**

..... 1640- ben a Skócia elleni háború költségeire az uralkodó újabb adót akart kivetni, ezért összehívta a parlamentet.

..... Orániai Vilmos elfoglalta Anglia trónját.

..... I. Károly halála után Anglia köztársaság lesz

..... A király és a parlament között kezdetét vette a polgárháború.

..... A parlament megalkotta a Jogok törvényét, a Jognyilatkozatot.

5 pont/

**12. Jelöld, melyik európai országra vonatkozik, írd a betűjelet az állítás után!**

**Anglia (A), Franciaország (F), Oroszország (O), Magyarország (M), Spanyolország (S).**

Uralkodója a Napkirály. .... Megépítették a Nagy Armadát. ....

Törökellenes háborúkat folytatott. .... Versailles ....

Polgárháború dúlt az országban. .... Új fővárosa: Szentpétervár. ....

Az állam és az egyház ura a cár. .... Uralkodóját lefejezték. ....

A földesurak jobbágyaikat eladhatták. .... Fennhatóságából kivált Hollandia ....

10 pont/

**13. Kiról van szó? A képhez tartozó betűvel válaszolj!**

Firenzei tudós, akinek elgondolása szerint hajózott Kolombusz: .....

Legfőbb tanítása: „Egyedül Isten által üdvözüln az ember”: .....

Amerika névadója: .....

I. Károlyt halálra íteltette, egyeduralmat vezetett be: .....

Áruhában utazott Nyugat-Európába tanulni: .....

Követőit reformátusoknak nevezzük: .....

Az egyik legjelentősebb reneszánsz festőnek tartják: .....

A leghíresebb kalóz, Erzsébet lovaggá ütötte: .....



**A**



**B**



**C**



**D**



**E**



**F**



**G**



**H**

8 pont/

**14. A XVI. sz. végétől új stílustörténeti korszak és korstílus alakult ki.**

**Nézd meg a ZANZA TV IRODALOM (10. évfolyam) témakörében, az ehhez kapcsolódó részt! Írj rövid összefoglalást az adott művészeti stílusról! (megnevezés, ideje, jellemzői, legalább 3-4 példa –nemcsak építészetre-.)**

.....

.....

.....

.....

.....

.....

.....

.....

.....

.....

.....

5 pont/

**Beérkezési határidő: 2019. január 07.**  
**Cím: „Salla” Művelődési Központ és Könyvtár**  
8999 Zalaötvő, Szabadság tér 2.  
E-mail cím: **zalakonyvtar@gmail.com**